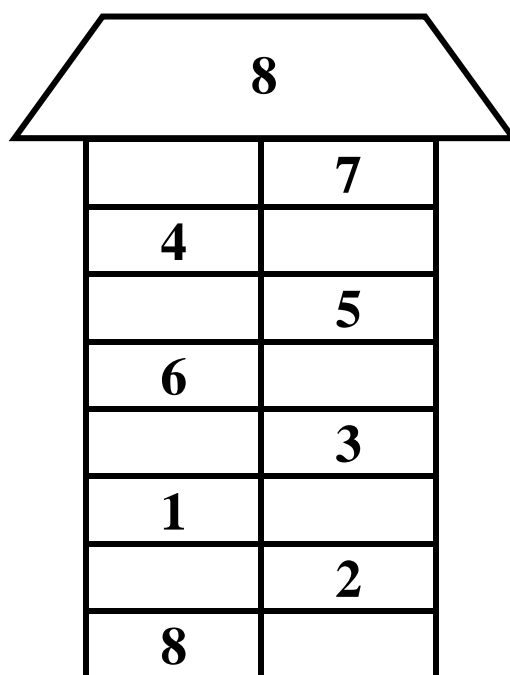
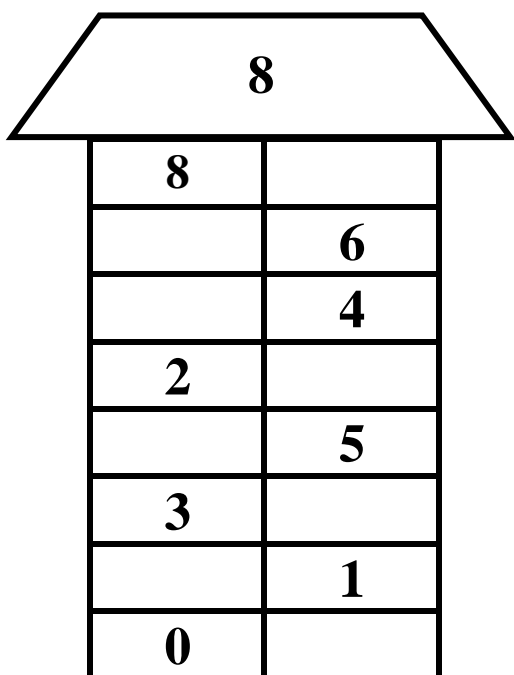


# 1. ЦИФРА 8

По образцу, показанному в классной работе, напишите 2 ряда цифр 8



# 2. СОСТАВ ЧИСЛА 8



$8 - 3 =$

$4 + 4 =$

$1 + 7 =$

$5 + 3 =$

$2 + 6 =$

$8 - 6 =$


$8 - 1 =$

$7 + 1 =$

# 3. ЗАПОЛНИ ТАБЛИЦУ

	$+1$	$-1$	$+2$	$-2$	$+3$	$-3$
3	$\rightarrow$					
4						
5						

**4. КАЖДЫЙ ВТОРОЙ КВАДРАТ РАСКРАСЬ ЗЕЛЕНЫМ ЦВЕТОМ**



**5. НАРИСУЙ ТАКИЕ ЖЕ ФИГУРЫ**

