







Занятие № 8 (6 лет)

Арифметические действия

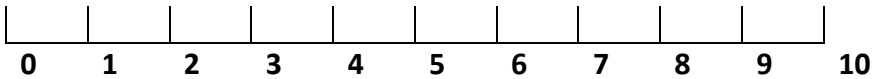


Расставь знаки > , < , = .

	>	1		4		3
		4		2		5

Примеры


Реши пример с помощью луча



Величина

Кеша живет не в самом высоком доме, но и не в самом низком.

Раскрась тот дом, в котором живет Кеша.



Состав числа

Заполни домик

6	
1	4
6	2
3	5

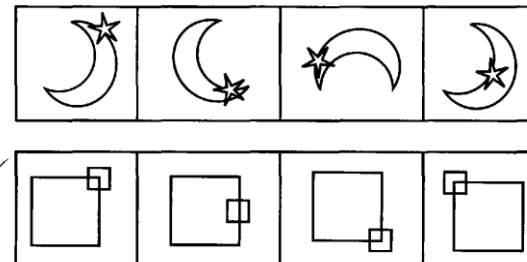
Задача

Составь и реши задачу



$5 - 2 = \dots$


Найди в каждом ряду лишнюю фигуру. Зачеркни ее.



Дома:

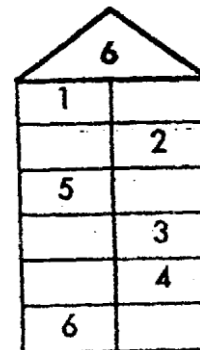
Арифметические действия

Найди каждой цифре новое место



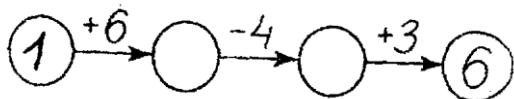
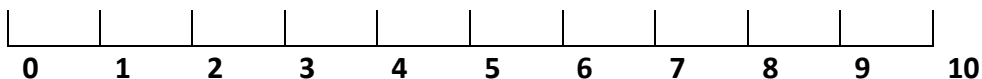
Состав числа

Заполни домик




Примеры

Реши пример с помощью луча




Величина

Катя выше Лены, но ниже Маши. Отгадай, как зовут каждую девочку и напиши их имена



Задача

Составь и реши задачу



$$6 - 1 =$$

Найди в каждом ряду лишнюю фигуру. Зачеркни ее

