
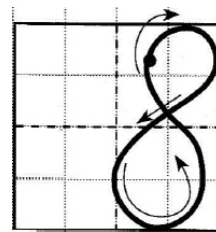

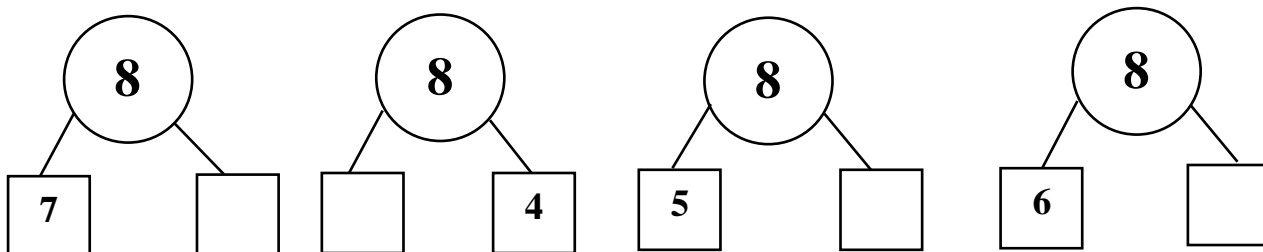


1. ЧИСЛО И ЦИФРА «8»



2. СОСТАВ ЧИСЛА 8



8	
5	
	2
	1
6	
	7
0	

8	
4	
	1
	3
6	
	8
2	

$8 - 1 =$

$4 + 4 =$

$5 + 3 =$

$2 + 6 =$

$8 - 0 =$

$6 + 2 =$

$8 - 3 =$

$8 - 2 =$

$2 + 6 =$

$8 - 5 =$

$5 + 3 =$

$8 - 4 =$

$4 + 4 =$

$8 - 5 =$

3. НЕРАВЕНСТВА ($>$; $<$) И РАВЕНСТВА ($=$)

8

7

6

8

8

3

6

5

7

7

2

8

8

8

8

5

6

6

4

3

1

2

8

1

Напиши в пустых клеточках нужные числа, чтобы при сложении чисел в каждом лепестке получалось число, написанное в середине цветочка:

