

★ Красная Шапочка понесла бабушке пирожки: два пирожка с капустой и один пирожок с картошкой. **Сколько всего** пирожков несла Красная Шапочка бабушке?

**Анализ задачи**


- Сколько пирожков с капустой было у Красной Шапочки?
- Сколько пирожков с картошкой несла Красная Шапочка?
- Что надо узнать в задаче?
- С помощью какого действия надо решать задачу: сложения или вычитания? Почему?
- Вставь в краткую запись задачи нужные числа и запиши её решение.

Пирожки с капустой —

Пирожки с картошкой —


Всего — ?

<input type="text"/>	+	<input type="text"/>	=	<input type="text"/>
----------------------	---	----------------------	---	----------------------



- Сколько всего пирожков было у Красной Шапочки?
- Подчеркни ответ задачи зелёным карандашом.
- Раскрась рисунок.


Посмотри, как составлено число два?



Каких предметов на этой картинке по-одному, а каких по два?



Как составлено число три? Расскажи все варианты.



Допиши пропущенные цифры.

